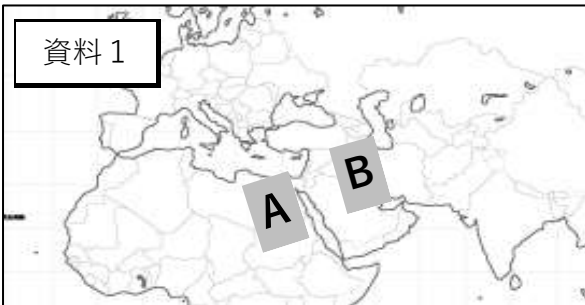


資料1



資料2



資料3

目には目を  
歯には歯を

基本問題1

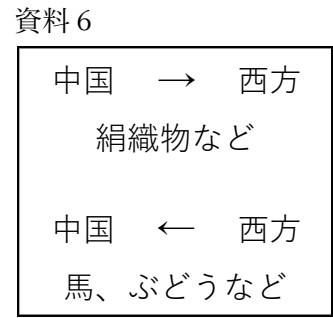
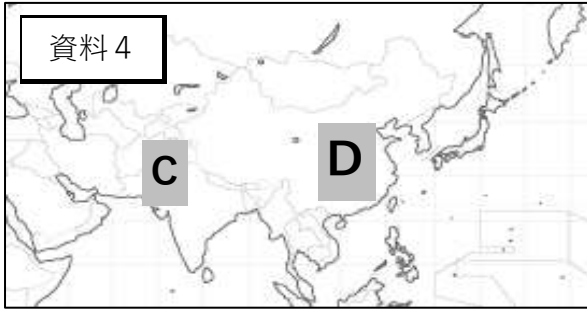
- ① 紀元前 3000 (3100) 年ごろ、資料1中の A の地域でおこった文明を何というか。
- ② 資料1中の A の地域でおこった文明は、何という川の流域で発展したか。川の名称を書きなさい。
- ③ 資料1中の A の地域でおこった文明で発明された文字は何とよばれるか。
- ④ 資料1中の A の地域では、太陽を基準にして1年を 365 日とした暦がつくられた。この暦を何というか。
- ⑤ 資料1中の A の地域では、資料2のような国王の墓がつくられた。このような建造物は何とよばれるか。
- ⑥ 紀元前 3500 (3000) 年ごろ、資料1中の B の地域でおこった文明を何というか。
- ⑦ 資料1中の B の地域でおこった文明は、何という川の流域で発展したか。川の名称を2つ書きなさい。
- ⑧ 資料1中の B の地域でおこった文明で発明された文字は何とよばれるか。
- ⑨ 資料1中の B の地域では、月の満ち欠けをもとにした暦がつくられた。この暦を何というか。
- ⑩ 紀元前 18 世紀ごろ、バビロニア王国の王がつくった法典には、資料3の考え方が示されていた。この法典は何とよばれるか。
- ⑪ ヨーロッパから見て東の「太陽ののぼる土地」を意味する、資料1中の A や B の地域を含む広大な地域は何とよばれるか。

①	②	③	④
⑤	⑥	⑦	
⑧	⑨	⑩	⑪

発展問題1

- ① エジプト文明で、太陽暦が発明されたのはどのような目的があったからと考えられるか、書きなさい。
- ② オリентでは、現在も使われている文字の原形が発明された。その文字を何というか、書きなさい。
- ③ 紀元前 1000 年ごろに普及した鉄器によって、社会にどのような変化があったか。1つ簡潔に書きなさい。

①	
②	③



基本問題 2

- ① 紀元前 2500 (2300) 年ごろ、資料 4 中の C の地域でおこった文明を何というか。
- ② 資料 4 中の C の地域でおこった文明は、何という川の流域で発展したか。川の名称を書きなさい。
- ③ 資料 4 中の C の地域でおこった文明で発明された文字は何とよばれるか。
- ④ 資料 4 中の C の地域には、上下水道や公衆浴場などの公共施設が整った最大の都市があった。現在のパキスタンにあるこの都市の遺跡は何とよばれるか。
- ⑤ 資料 4 中の D の地域でおこった文明を何というか。
- ⑥ 紀元前 1600 年ごろ、黄河の流域に成立した国は何とよばれるか。
- ⑦ ⑥の国では、のちの漢字のもとになった文字がつくられた。この文字は何とよばれるか。
- ⑧ 紀元前 6 世紀ごろ、孔子が説いた教えを何というか。
- ⑨ 紀元前 3 世紀ごろ、初めて中国を統一した国は何とよばれるか。また、その皇帝はだれか。
- ⑩ ⑨の国の時代に築いた資料 5 のような城壁は何とよばれるか。
- ⑪ ⑨の国にかわって中国を統一した漢の時代には、西方との陸の交通路が整備された。この交通路は何とよばれるか。

①		②		③		④	
⑤		⑥		⑦		⑧	
⑨	国	人物		⑩		⑪	

発展問題 2

- ① 古代文明がおこったそれぞれの地域には、どのような共通点があるか。簡潔に書きなさい。
- ② 秦の始皇帝が、万里の長城を築いた目的は何か、書きなさい。
- ③ 漢の時代になると、資料 6 にあるように、中国と西方の交流がさかんになった。その理由を書きなさい。

①	
②	
③	